



## Βατραχοδρομίες

Χρησιμοποιήστε αριθμούς από κάθε κουτάκι για να φτιάξετε μια μαθηματική πρόταση. Χρωματίστε τους αριθμούς που χρησιμοποιήσατε. Νικητής είναι ο παίκτης που χρωμάτισε τα περισσότερα κυκλάκια.




8	9		9	7		12	16	
	7			6			15	
5		6		8		14	13	
	8			4			18	
6		4	+	2	3	=	13	15
	9				5			17
7		3		9		8	16	14
	2				4			15
8		9		7		3	14	12
	6				6			17



Όλα για τον Δάσκαλο - <http://olagiatondaskalo.weebly.com/>

## Βατραχοδρομίες

Χρησιμοποιήστε αριθμούς από κάθε κουτάκι για να φτιάξετε μια μαθηματική πρόταση. Χρωματίστε τους αριθμούς που χρησιμοποιήσατε. Νικητής είναι ο παίκτης που χρωμάτισε τα περισσότερα κυκλάκια.



8	9		9	7		12	16	
	7			6			15	
5		6		8		14	13	
	8			4			18	
6		4	+	2	3	=	13	15
	9				5			17
7		3		9		8	16	14
	2				4			15
8		9		7		3	14	12
	6				6			17

